
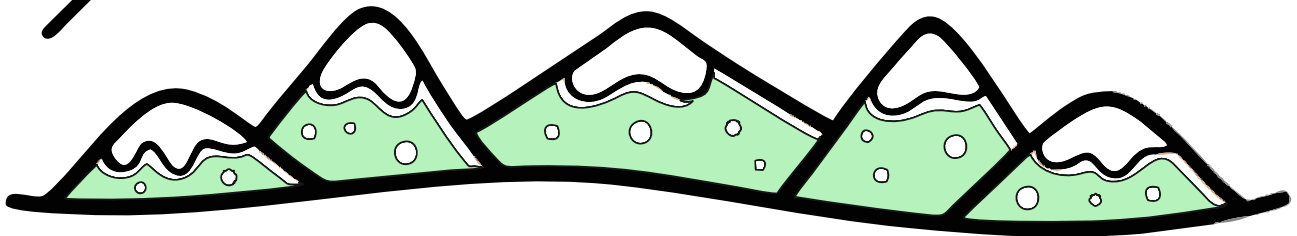


Mit



morgenhaft^{er} 2E



dansk matematik engelsk billedkunst

Navn og klasse:

Dansk

Prik vokaler og del ordene i stavelser. Skriv en sætning med hvert ord.

klokke

maske

lommer

økse

stoppe

tænder

dukke

onsdag

klokke:

maske:

lommer:

økse:

stoppe:

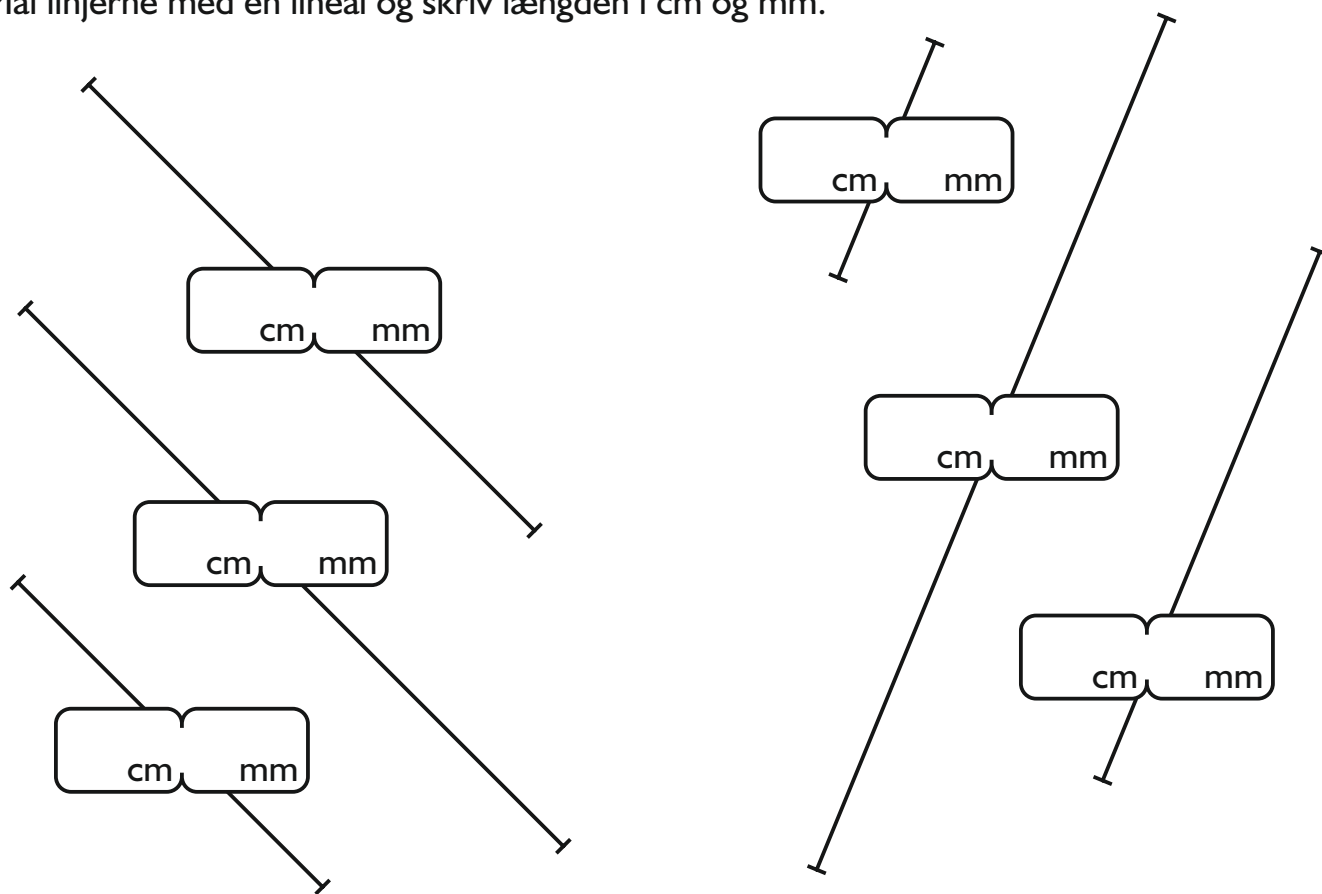
tænder:

dukke:

onsdag:

Matematik

Mål linjerne med en lineal og skriv længden i cm og mm.



Matematik

10 mindre og 10 mere?

$$\square \xleftarrow{-10} 16 \xrightarrow{+10} \square$$

$$\square \xleftarrow{-10} 100 \xrightarrow{+10} \square$$

$$\square \xleftarrow{-10} 69 \xrightarrow{+10} \square$$

$$\square \xleftarrow{-10} 71 \xrightarrow{+10} \square$$

$$\square \xleftarrow{-10} 43 \xrightarrow{+10} \square$$

$$\square \xleftarrow{-10} 22 \xrightarrow{+10} \square$$

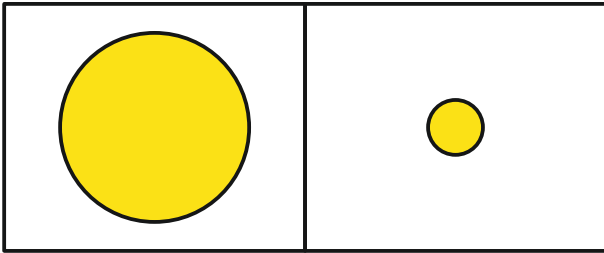
Billedkunst


Farv flot.




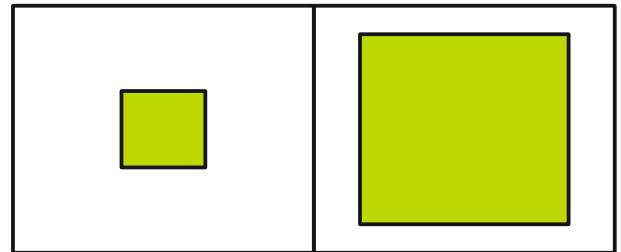
Engelsk

Skriv big eller small ved tegningerne.












Skriv boy eller girl ved tegningerne.



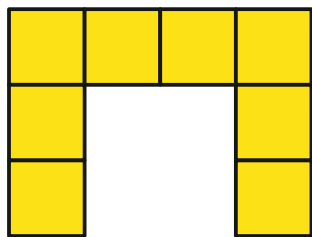






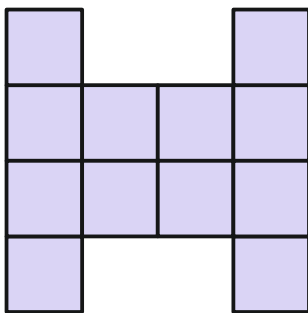
Matematik

Find areal og omkreds af figurerne:




Areal: _____ cm^2

Omkreds: _____ cm



Areal: _____ cm^2

Omkreds: _____ cm



Areal: _____ cm^2

Omkreds: _____ cm

Dansk

Sæt to streger, så der dannes tre ord. Skriv de tre ord i kasserne.

klopilsko

--	--	--

næsenyskys

--	--	--

æblelegged

--	--	--

nettyrske

--	--	--

kakaookseven

--	--	--

Dansk

Skriv magen til så pænt du kan:

I morgen skal jeg sove lange.

På taget sidder to duer.


Karsten har en grøn båd.

I weekenden skal jeg ingenting.

Må jeg få en eller to is?

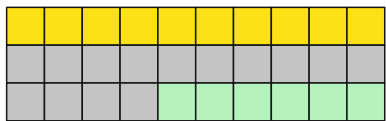
Billedkunst

Tegn en kamel.




Matematik

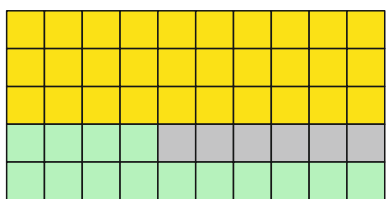
Opstil som plus-stykke og regn:



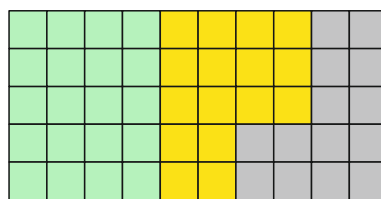
$$\underline{\quad} + \underline{\quad} + \underline{\quad} = \underline{\quad}$$



$$\underline{\quad} + \underline{\quad} + \underline{\quad} = \underline{\quad}$$



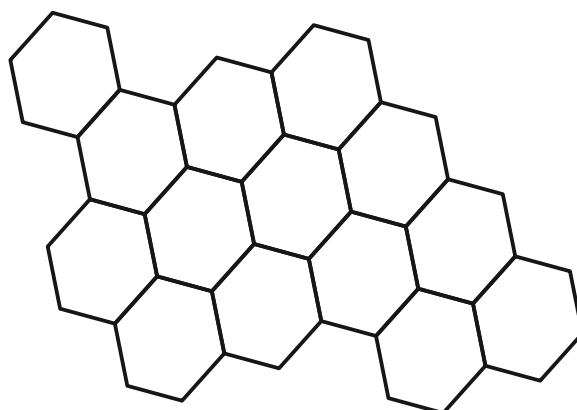
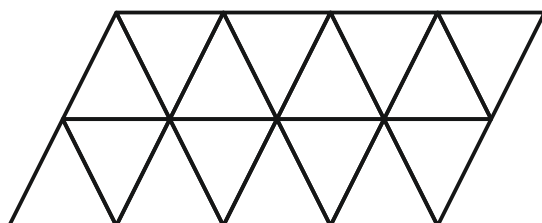

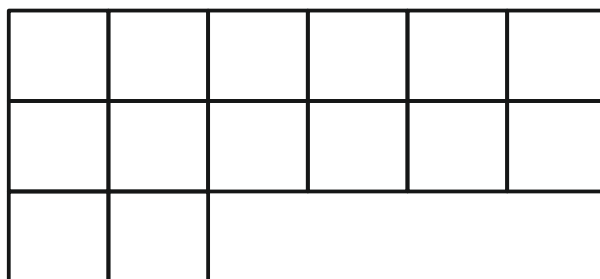
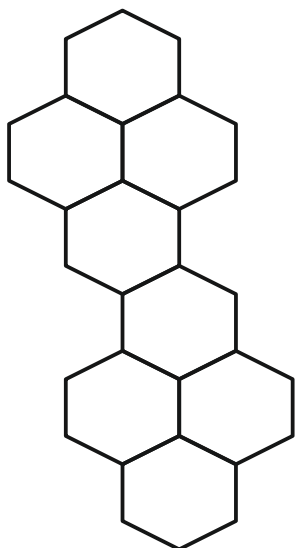
$$\underline{\quad} + \underline{\quad} + \underline{\quad} = \underline{\quad}$$



$$\underline{\quad} + \underline{\quad} + \underline{\quad} = \underline{\quad}$$

Matematik

Farv halvdelen:



Dansk



Kan du lave spørgsmål?

Jeg vil gerne spille bold. _____ vil være med?

Jeg bor på Østergade. _____ bor du henne?

Jeg kan ikke finde ud af det. _____ du hjælpe mig?

Jeg vil gerne købe en kage. _____ koster den?

Jeg vil gerne i biografen. _____ mon filmen starter?

Jeg blev ked af det. _____ slog du mig?

Hvor

Hvornår

Vil

Hvor meget

Hvorfor

Hvem

Dansk

Skriv selv to spørgsmål og svar på dem:

Hvor

Hvem

Engelsk

Vejret. Skriv det rigtige ord ved det rigtige billede.

sun

rain

snow





cloud

wind

lightning

tornado

rainbow



Matematik

Forbind prikkerne 1-89.

