
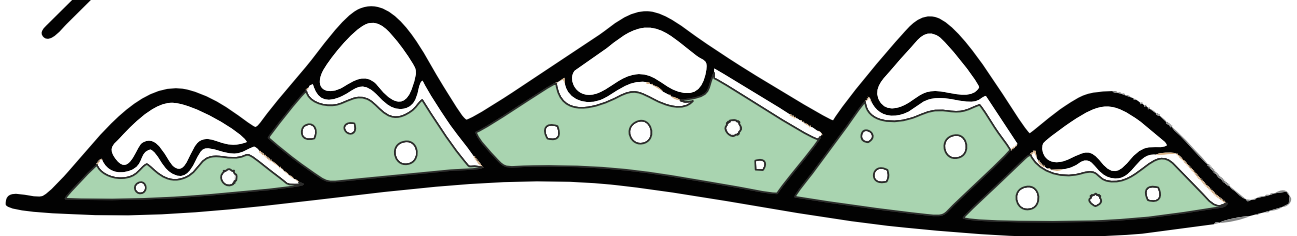


Mit



morgenhæfte 2C



dansk matematik engelsk billedkunst

Navn og klasse:

Dansk

Bøj navneordene/substantiverne i skemaet.

Ental		Flertal	
ubestemt en / et	bestemt -en / -et	ubestemt flere ...	ubestemt alle ...
en flamingo			
et fly			
		maskiner	
		træer	
	kvinden		
			børnene
en gravko			
			vennerne
	bladet		

Matematik

Regn plusstykkerne.

$78 + 16 = \underline{\quad}$ $19 + 9 = \underline{\quad}$ $60 + 60 = \underline{\quad}$

$36 + 27 = \underline{\quad}$ $15 + 5 = \underline{\quad}$ $70 + 70 = \underline{\quad}$

$50 + 55 = \underline{\quad}$ $18 + 7 = \underline{\quad}$ $25 + 65 = \underline{\quad}$



Skriv de rigtige ord ved det samme symbol.





vandmelon





grønkål



rødbeder





ananas









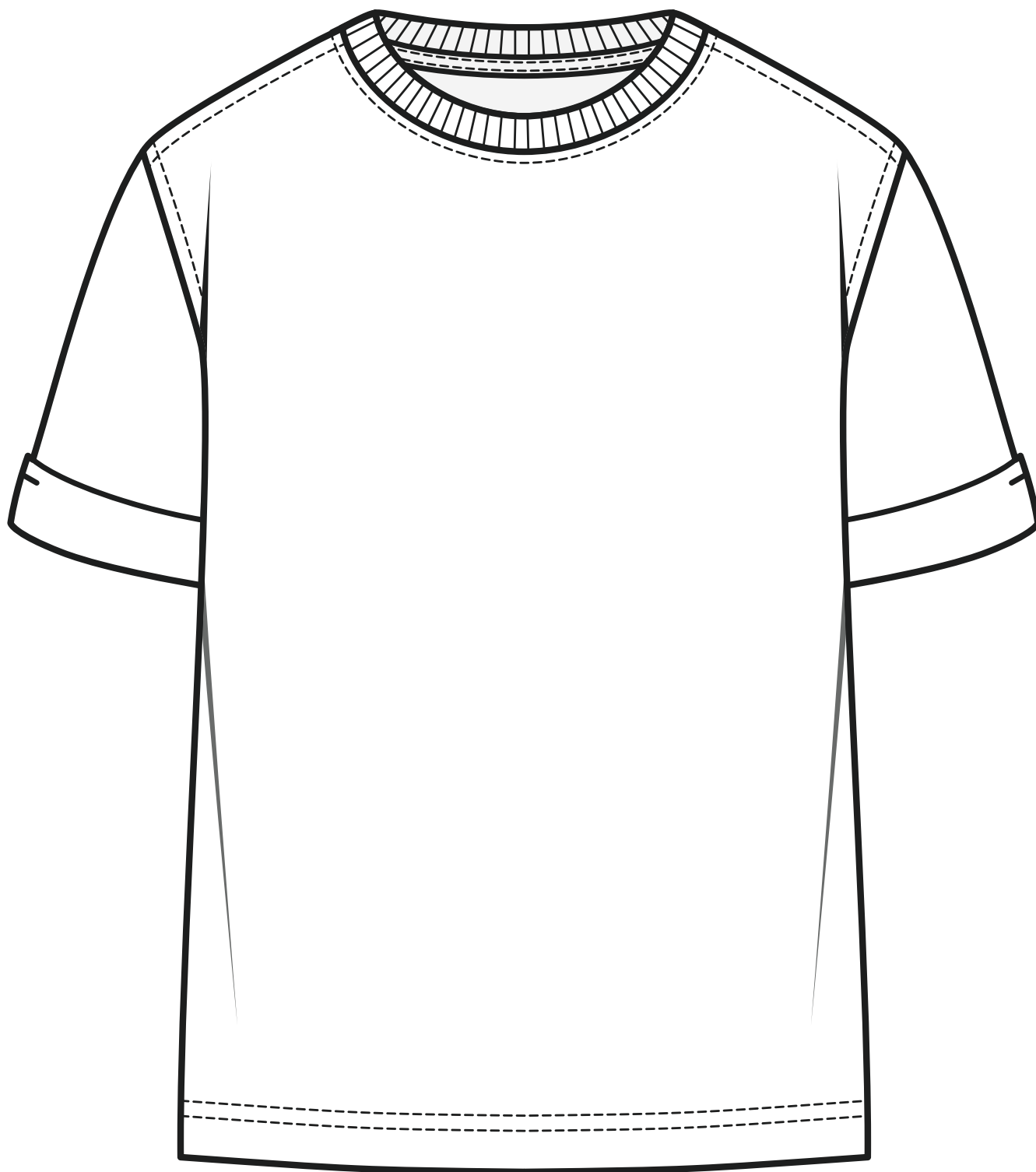
artiskok



aubergine

Billedkunst

Design en smart T-shirt.



Dansk

Skriv tre **tillægsord/adjektiver**, der passer til teksten.

Sådan smager vingummi ...

Når det er sommer, er jeg ...

En hund kan være ...

En lærer kan være ...

En bil kan være ...

Mit tøj er ...

Matematik

Udfyld tabellerne.



•	3	4	6
2			
5			
6			

—	10	20	100
150			
220			
500			

Matematik

Skriv tallet før og efter.

	212	
--	-----	--

	106	
--	-----	--

	809	
--	-----	--

	333	
--	-----	--

	97	
--	----	--

	444	
--	-----	--

	14	
--	----	--

	532	
--	-----	--

Engelsk

Skriv de engelske ord.



a carpenter



an artist



a doctor



a waiter



a farmer

Billedkunst

Lav et maleri som en «rigtig» kunstner.



Dansk

Skriv navnene i alfabetisk rækkefølge.

Willy

Petra

Bolette

Julius

Gustav

Sine

Sander

Sigurd

Selma

Søren

Engelsk

Skriv de engelske ord.



a chef



a painter



a vet



a pilot



a fireman

Matematik

Læs og løs regnehistorierne.

Det er morgen, og Mikkel skal i skole. Han smører selv sin madpakke. Han husker at lave en masse rugbrøds-madder. Hver mad tager 3 minutter at smørre, og han har 5 madder i sin madkasse, da han er færdig.

Hvor mange minutter bruger Mikkel på at smørre rugbrøds-madder?

_____ minutter

Mikkel husker også, at hans far har sagt, det er en god idé med en masse grøntsager i madpakken. Derfor finder Mikkel en bakke tomater og lægger otte små tomater i madkassen. Derudover tager han en gulerod og fem sukker-ærter med.

Hvor mange stykker grøntsager har Mikkel med i madkassen?

_____ stk.

Hvor mange frugter til hvert barn?




Illustration of three children (two girls and one boy) standing above a basket containing 15 strawberries. Below the basket is a small empty box with the text "stk." inside.




Illustration of two children (one boy and one girl) standing above a basket containing 15 plums. Below the basket is a small empty box with the text "stk." inside.




Illustration of four children (two boys and two girls) standing above a basket containing 15 apples. Below the basket is a small empty box with the text "stk." inside.



Matematik



1. Farv. 2. Følg stregen. 3. Forbind prikkerne. 4. Tegn selv.

1	2
3	4

1	2
3	4

Dansk

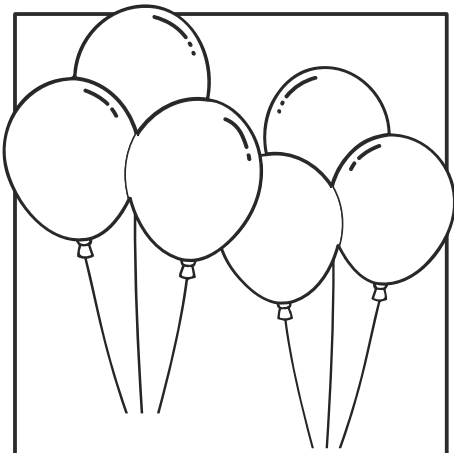
Skriv tre **tillægsord/adjektiver**, der passer til teksten.

Når det er morgen, er jeg ...	Når det er vinter, er der ...	En bjørn kan være ...


Et monster kan være ...	En blomst kan være ...	Min madpakke er ...

Engelsk

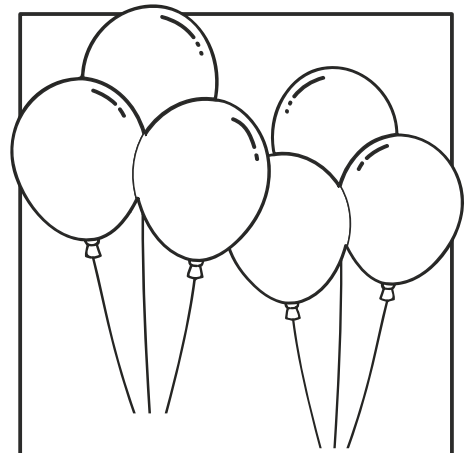
Læs og farv.



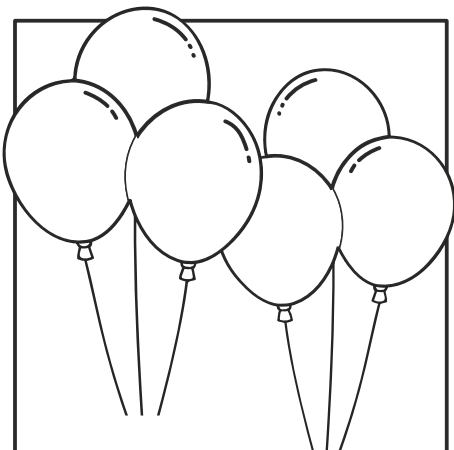
Colour three balloons
red.



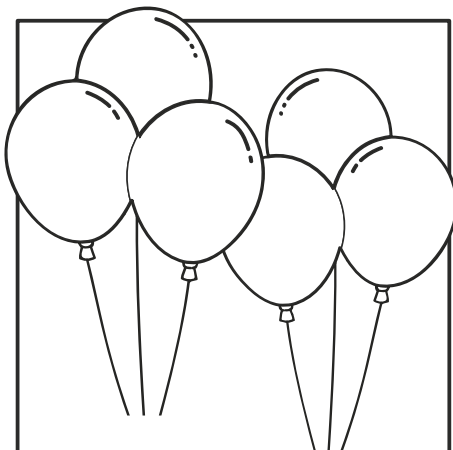
Colour five balloons
orange.



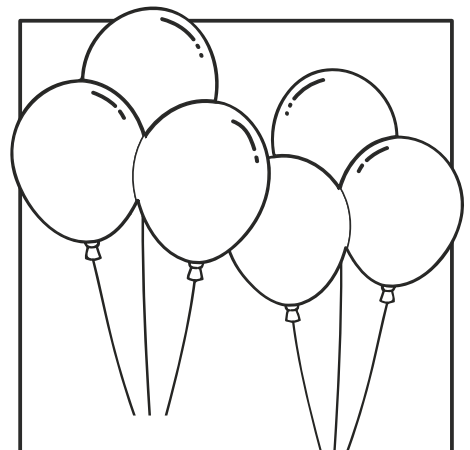
Colour six balloons
green.



Colour the balloons
blue and purple.



Colour one balloon
pink.



Colour two balloons
yellow.

Draw four red balloons.

Draw five small balloons.

Draw one big balloon.

Billedkunst

Farv flot.

